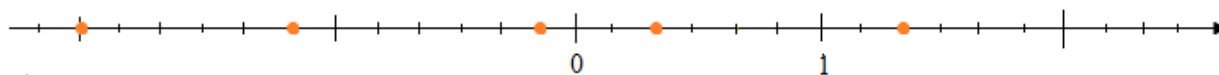


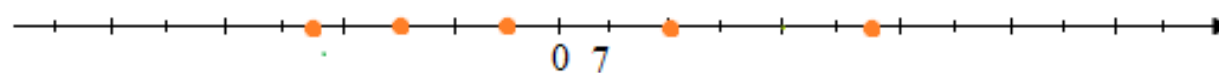
Zadanie 1.

Odczytaj współrzędne zaznaczonych punktów:

a)



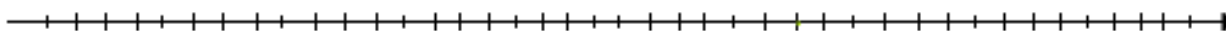
b)



Zadanie 2.

Dobierz odpowiedni odcinek jednostkowy i zaznacz na osi liczbowej liczby:

$$\frac{1}{2}; -\frac{1}{3}; 1\frac{3}{4}; -2\frac{3}{6}; 2\frac{1}{6}$$



Zadanie 3.

Zaznacz na osi liczbowej punkty o danych współrzędnych i odczytaj hasło.

$$U = -2,4 \quad S = -3\frac{1}{5} \quad E = 0,6 \quad P = -0,6 \quad R = 1,4$$

